

Всероссийская олимпиада по технологии
Школьный этап
Номинация «Культура дома, дизайн и технологии»
5-6 класс

(Тестовые задания 1-10 оцениваются в 1 балл, задание 11 – в 5 баллов)

1. Впишите пропущенное слово:

Проектная деятельность – это деятельность по созданию нового нужного _____, нужной услуги.

2. Выберите из предложенного списка наименования кухонной посуды:

- а) кастрюля;
- б) скалка;
- в) пресс для чеснока;
- г) заварочный чайник;
- д) фольга для запекания.

3. В каких продуктах не содержатся углеводы?

Креветки, белый хлеб, куриное мясо, шоколад, макароны.

Ответ: _____

4. Установите правильное соответствие:

1	закрытые бутерброды	А	маленькие закусочные бутерброды
2	сложные бутерброды	Б	бутерброды на обжаренном ломтике хлеба
3	гренки	В	сэндвичи
4	канапе	Г	с несколькими продуктами

Ответ: 1 - ____, 2 - ____, 3 - ____, 4 - ____

5. Укажите, какие из высказываний являются верными, а какие не верными.

Высказывание	верно / не верно
1. Чем мягче вода, тем вкуснее чай	
2. Чай улучшает пищеварение, придает ощущение бодрости	
3. Не рекомендуется заваривать чай в фарфоровых и глиняных чайниках	

6. Впишите пропущенные слова:




_____ волокна делятся на натуральные и _____.

7. Ответ на вопрос впишите в пустые клетки.

Как называется оформление помещения в определенном художественном стиле или внутренний вид помещения?

	Н						Р
--	---	--	--	--	--	--	---

8. Поставьте в соответствие рисунки и виды орнамента.

1	Геометрический	А	
2	Зооморфный	Б	
3	Растительный	В	

Ответ: 1 - ____, 2 - ____, 3 - ____

9. Решите задачу.

Для изготовления одного изделия мастеру необходимо 0,6 м ткани. У него есть в наличии 20 м этой ткани. Хватит ли мастеру ткани для изготовления 30 изделий?

Решение: _____

Ответ: _____

10. Выберите из предложенного списка профессии, относящиеся к системе «человек – человек»: бухгалтер, фрезеровщик, учитель, психолог, инженер.

Ответ: _____

11. Творческое задание

Творческое задание для 5 класса.

Выполните эскиз орнамента в полосе для последующей вышивки на льняном полотенце. Предложите цветовое решение орнамента.

Творческое задание для 6 класса

Предложите рецепты приготовления двух различных видов бутербродов. Выполните эскизы их внешнего вида.

Рецепт бутерброда	Эскиз внешнего вида
1.	
2.	